


Nome _____ N.º _____ Ano _____ Turma _____
Data ____/____/____

EDUCAÇÃO TECNOLÓGICA

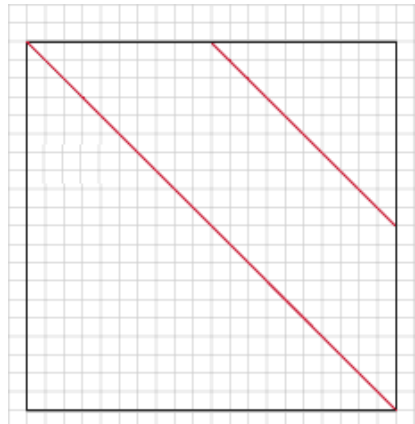
MEDIÇÕES

Como construir um TANGRAM

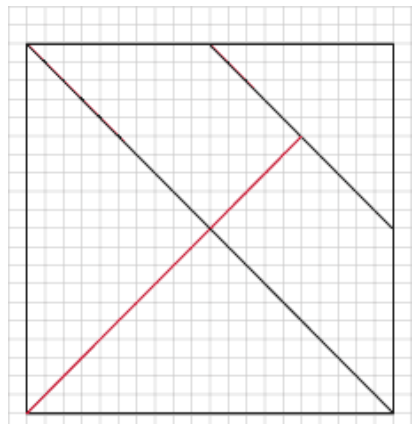
1. Desenhe um quadrado com 10 cm de lado (20 quadrículas da folha).



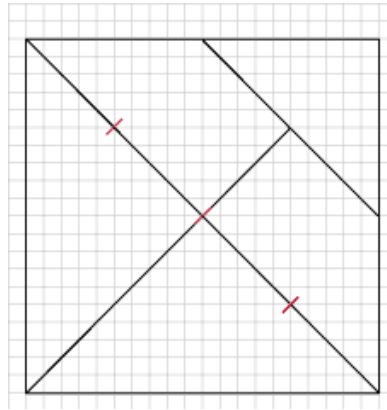
2. Trace uma das diagonais do quadrado e a recta que une os pontos médios de dois lados consecutivos do quadrado; esta linha recta deve ser paralela à diagonal.



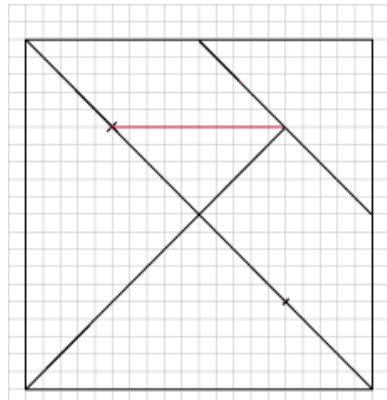
3. Desenhe a outra diagonal do quadrado até à segunda linha.



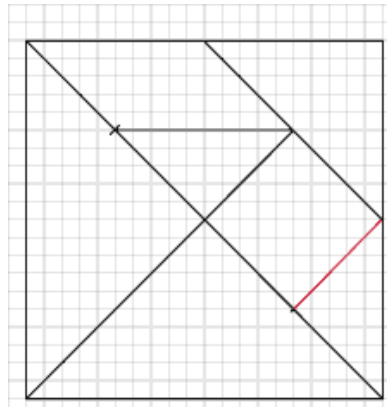
4. A primeira diagonal traçada deverá ser partida em quatro partes iguais. Cada parte medirá 5 quadriculas.



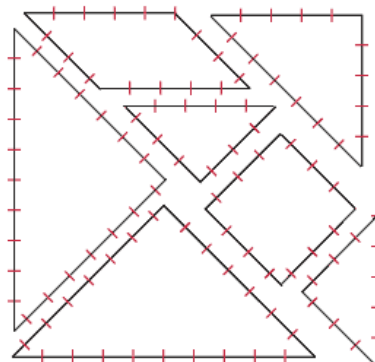
5. Trace a recta conforme a figura abaixo.



6. Por último, trace esta recta.



7. Agora deverá recortar as 7 peças do Tangram e criar imagens.



ANEXO I

Alguns exemplos. Descobre outros possíveis e cria os teus!

